



İNFORMAL YAYINLARI

TAKDİM

Değerli Adaylar,

ÖSYM tarafından her yıl çeşitli sınavlar düzenlenmektedir. Bu sınavlar içerisinde KPSS Lisans, KPSS Ön Lisans, KPSS Ortaöğretim, E-KPSS, MSÜ, Askeri Sınavlar ve Jandarma gibi sınavlarda karşımıza çıkan coğrafya dersinin çok önemli bir yeri vardır.

Bu kitaptan çalışan adaylar aşağıdaki soruların cevaplarını kitabın içinde bulacaklardır:

- ✓ ÖSYM'nin son yıllardaki soru dağılımı nasıl şekillenmiştir?
- ✓ ÖSYM'nin Coğrafya dersinde en çok soru sorduğu konular hangileridir?
- ✓ Coğrafya müfredatına eklenen konular nelerdir?
- ✓ Coğrafya sorularında ne sorulursa neye bakılır?
- ✓ Coğrafi konumun etkileri nelerdir?
- ✓ Türkiye'nin matematik konumunun sonuçları nelerdir?
- ✓ Ülkemizin özel konumunun önemli sonuçları nelerdir?
- ✓ Ülkemizin jeopolitik önemini artıran coğrafi özellikleri nelerdir?
- ✓ Enlem ve boylamın farkını nasıl ayırt edebilirim?
- ✓ Dünya'nın şekli ve hareketleriyle ilgili ÖSYM nasıl soru soruyor?
- ✓ İç kuvvetler - dağlar - ovalar ve platolarla ilgili ÖSYM nasıl soru soruyor?
- ✓ Türkiye'nin iklimi ve sonuçları nelerdir?
- ✓ Ülkemizin matematik konumunun iklim üzerindeki etkileri nelerdir?
- ✓ Ülkemizin en az ve en fazla yağış alan yerleri nerelerdir?
- ✓ Ülkemizde görülen topraklar hangileridir?
- ✓ Türkiye'nin bitki örtüsünün dağılışı nasıldır?
- ✓ Ülkemizde yer alan akarsuların genel özellikleri nelerdir?
- ✓ Türkiye'de arazi kullanımı nasıldır ve arazi kullanımında yapılan yan-



İNFORMAL YAYINLARI

İlişkiler nelerdir?

- ✓ Ülkemizde nüfus artışı ve nüfusun dağılımı nasıldır?
- ✓ Ülkemizde tarım, hayvancılık ve ormancılığı etkileyen faktörler nelerdir?
- ✓ Türkiye’de maden dağılımıyla ilgili ÖSYM’nin soru tarzı nasıldır?
- ✓ Türkiye’de enerji kaynaklarıyla ilgili ÖSYM hangi tarzda soru sormaktadır?
- ✓ ÖSYM’nin özellikle üzerinde durduğu sanayi-ham madde ilişkisi nasıldır?
- ✓ Ulaşım ile ilgili son yıllardaki gelişmeler nelerdir?
- ✓ Ticaretle ilgili ilginç bilgiler nelerdir?
- ✓ ÖSYM turizmle ilgili nasıl soru sorar?
- ✓ Mutlaka soru gelecek olan kalkınma projeleri nelerdir?

KPSS’de 18 soruluk, TYT’de 5 soruluk, AYT’de 17, ÖABT’de 60 soruluk kısım Coğrafya dersine ayrılmış ve buralarda yukarıda vermiş olduğumuz konuların içeriklerine dayalı olarak sorularla karşılaşmaktayız. Sınavlarda çok önemli bir yere sahip olan bu dersin kendine göre pratik noktaları ve ezberlemeden yapılabilecek temel özellikleri vardır.

Biz bu çalışmamızda Coğrafyadan karşımıza gelecek sorularda pratik olarak nasıl hareket edebileceğimizi, sorularda ne sorulduğunda neye bakmamız gerektiğini, daha çok yorumlama ve pratik noktalarla sizlere bilgi vermeye ve yardımcı olmaya çalıştık.

Yoğun emek harcayarak, yıllarının birikiminin kitaplaşmış hali olarak hazırlanmış olduğumuz bu eserimizin hepinize yol göstermesi dileğiyle sizlere böyle bir eseri takdim etmiş bulunuyoruz.

Gireceğiniz sınavlarda hepinize başarılar dileriz.

İnformal Yayınları Sınav Kazandırır!



İsmail KAYNARCA

İÇİNDEKİLER

İNFORMAL YAYINLARI

TAKDİM	1
KÜNYE	3
İÇİNDEKİLER	4
BÖLÜM 1: TÜRKİYE'NİN COĞRAFİ KONUMU	8
BÖLÜM 2: ÜLKEMİZİN JEOLojİK GEÇMİŞİ, DAĞLARI, OVALARI ve PLATOLARI	18
BÖLÜM 3: AKARSULARIN OLUŞTURDUĞU YÜZEY ŞEKİLLERİ	30
BÖLÜM 4: TÜRKİYE'NİN İKLİMİ	42
BÖLÜM 5: TÜRKİYE'NİN TOPRAK VARLIĞI	67
BÖLÜM 6: TÜRKİYE'NİN BİTKİ ÖRTÜSÜ	78
BÖLÜM 7: TÜRKİYE'NİN SU VARLIĞI	88
BÖLÜM 8: TÜRKİYE'DE DOĞAL AFETLER	105
BÖLÜM 9: TÜRKİYE'DE ARAZİ KULLANIMI	115
BÖLÜM 10: TÜRKİYE'NİN NÜFUS ÖZELLİKLERİ VE NÜFUS HAREKETLERİ	119
BÖLÜM 11: TÜRKİYE'DE TARIM	146
BÖLÜM 12: TÜRKİYE'DE HAYVANCILIK	159
BÖLÜM 13: TÜRKİYE'DE MADENCİLİK	166
BÖLÜM 14: TÜRKİYE'DE ENERJİ KAYNAKLARI	178
BÖLÜM 15: TÜRKİYE'DE SANAYİ	185
BÖLÜM 16: TÜRKİYE'DE ULAŞIM	194
BÖLÜM 17: TÜRKİYE'DE TİCARET	204
BÖLÜM 18: MEDENİYETLER BEŞİĞİ ANADOLU	215
BÖLÜM 19: TÜRKİYE'DE TURİZM	217
BÖLÜM 20: TÜRKİYE'NİN KALKINMA PROJELERİ	229
BÖLÜM 21: TÜRKİYE'NİN COĞRAFİ BÖLGELERİ	238
BÖLÜM 22: TÜRKİYE EKONOMİSİNİN SEKTÖREL DAĞILIMI ve EKONOMİ POLİTİKALARI	251



İNFORMAL YAYINLARI

Bölüm 1

4. Türkiye'nin matematik konumunun sonuçları nelerdir?

- ✓ Kuzey Yarım Küre'de yer alır.
- ✓ En doğusu ile en batısı arasında 76 dakikalık zaman farkı vardır.
- ✓ En kuzeyi ile en güneyi arasında 666 km kuş uçuşu mesafe vardır.
- ✓ Güneş ışınları hiçbir zaman dik açıyla düşmez.
- ✓ Orta Kuşak'ta yer alır.
- ✓ Güneyden kuzeye gidildikçe kıyılarda sıcaklık azalır.
- ✓ Dağların güney yamaçları kuzeyine göre daha sıcaktır.
- ✓ Yengeç Dönencesi'nin kuzeyinde yer alır.

5. Türkiye'nin başlangıç meridyeni olan Greenwich'in doğusunda yer almasının sonucunda ne meydana gelir?

Batısından doğusuna gittikçe başlangıç meridyeni ile olan zaman farkı artar.

6. Türkiye'nin Orta Kuşak'ta yer almasının sonuçları nelerdir?

- ✓ Dört mevsim belirgin yaşanır.
- ✓ Akdeniz iklim kuşağında yer alır.
- ✓ Cephe yağışları görülür.
- ✓ Batı rüzgârlarının etkisi gözlenir.

7. Ülkemizde aynı anda tek ortak saat kullanılır. Bu durumun nedeni nedir?

Ülkemiz doğu-batı doğrultusunda fazla yer kaplamaz. Bundan dolayı tek ortak saat kullanılmaktadır. Yani boylam farkı (yerel saat farkı) azdır.



8. Özel (Göreceli) konum nedir?

Bir yerin tarihsel süreçteki gelişmeler, mesafe, maliyet, coğrafi unsurlar (yollar, denizler, önemli ülke ya da kuruluşlarla ilişki ve yakınlık vb.) gibi değişkenler açısından konumudur.

9. Ülkemizin özel konumuyla ilgili bazı önemli durumlar nelerdir?

- ✓ Üç tarafı denizlerle çevrilidir.
- ✓ Dağlık ve engebeldir.
- ✓ Ortalama yükseltisi fazladır. (1132 m)
- ✓ Kısa mesafelerde önemli iklim değişikliği görülür.
- ✓ Önemli yer altı kaynaklarına sahiptir.
- ✓ Tarihsel süreçte pek çok medeniyete ev sahipliği yapmıştır.
- ✓ Genç ve dinamik bir nüfus yapısına sahiptir.
- ✓ Aynı anda farklı mevsimler yaşanır.
- ✓ Avrupa ve Asya arasında köprü durumundadır.

Not: Ülkemizde yıl içerisinde dört mevsimin belirgin yaşanması Orta Kuşak'ta yer almamızla ilgilidir. Yani matematik konumumuzun bir sonucudur. Aynı anda dört mevsimin yaşanması ise yer şekillerinin engebeli yapısıyla ilgilidir. Yani özel konumumuzun sonucudur.

10. Ülkemizde aynı anda birden fazla mevsim yaşanması ve kısa mesafelerde iklim değişikliğinin çok olmasının nedeni nedir?

Dağlık ve engebeli yer şekillerine sahip olmasıdır. Yükseltinin kısa mesafelerde değişmesi, sıcaklığı dolayısıyla iklim koşullarını değiştirir.

11. Ülkemizde kullanılan ulusal saatin 1973-2016 yılları arasında değiştirilmesinin nedeni neydi?

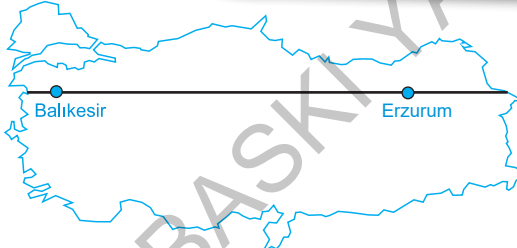
Enerji tasarrufu sağlamak ve gün ışığından daha çok yararlanmaktır.



12. Ülkemiz 1973-2016 yılları arasında hangi meridyenlerin yerel saatini ulusal (ortak) saat olarak kullanmaktaydı?

Yaz aylarında 45° İğdir ilimizin, kış aylarında 30° Kocaeli ilimizin yer saatlerini ortak saat olarak kullanmaktaydı. 2016 yılında bakanlar kurulunun aldığı kararla yıl boyunca tek ortak saat kullanılmaktadır. (45° Doğu-İğdir)

13. Aşağıdaki Türkiye haritasında gösterilen paralel dairesi üzerinde yer alan Balıkesir ve Erzurum illerimizde ortak olan coğrafi özellikler nelerdir?



✓ Ekvator'a ve kutuplara olan kuş uçuşu uzaklık	✓ Çizgisel hız
✓ Güneş ışınlarının düşme açısı	✓ Gurup ve tan süreleri
✓ Deniz seviyesinde yer çekim kuvveti	✓ Gölge boyu
✓ Yaşadıkları mevsim	✓ Gölge yönü
✓ Buldukları iklim kuşağı	



3. Paleozoik yani I. jeolojik zamanda ülkemizde görülen coğrafi özellikler hakkında kısaca bilgi verir misiniz?

Türkiye'nin büyük bir kısmı “**Tetis**” adı verilen bir iç deniz ile kaplıydı.

Bu dönemde Zonguldak'taki taş kömürü yatakları oluşmuştur.

Ayrıca bu dönemde Yıldız Dağları, Menteşe, Bitlis, Kırşehir, Tokat vb. masifleri oluşmuştur.

Not: Başkalaşıma uğrayarak sertleşmiş, eski dönemlerden kalma dağ kütlelerine “**masif**” denir. Masif araziler kırılma, kıvrılma özelliğini kaybettiği için deprem riski az olan yerlerdir.

4. Ülkemizde Paleozoik yani I. jeolojik döneme ait masif araziler birkaç yerde görülmektedir. Ama bu dönemde oluşan taş kömürü sadece Zonguldak ve çevresinde yer almaktadır. Bu durumun nedeni nedir?

Bu dönemde Zonguldak ve çevresinde yetişen gür bitki örtüsü taş kömürü yataklarının oluşum nedenidir. Kömür organik maddelerin birikmesiyle oluşan bir kayaç türüdür.

5. Mezozoik yani II. jeolojik zamanda ülkemizde görülen coğrafi özellikler hakkında kısaca bilgi verir misiniz?

Karalar, dış kuvvetler tarafından aşındırılmış ve aşındırılan maddeler Tetis Denizinde birikerek tortullanmıştır.

6. Ülkemizin tersiye (III. jeolojik) döneminde geçirmiş olduğu coğrafi özellikler hakkında kısaca bilgi verir misiniz?

Kuzey Anadolu Dağları, Toros Dağları bu dönemde oluşmuştur.

Linyit, petrol, kaya tuzu, bor gibi doğal kaynaklar meydana gelmiştir.

Arabistan kütesinin Anadolu yarımadasını sıkıştırması sonucu Doğu Anadolu yükselmiştir. Zamanın sonlarına doğru volkanik püskürmeler başlamıştır.



İNFORMAL YAYINLARI

7. Kuaterner diğer adıyla IV. jeolojik zamanda ülkemizde meydana gelen değişiklikler ile ilgili bilgi verir misiniz?

Ege Denizi'nin bulunduğu alanda yer alan Egeit karası çökmüş ve Ege Denizi oluşmuştur.

İstanbul ve Çanakkale Boğazları meydana gelmiştir.

Dağlık alanlardaki buzul şekilleri meydana gelmiştir.

Ülkemiz, günümüzdeki son halini almıştır.

Genç volkanik dağlar oluşmuştur.

8. Ülkemizde yer alan kırıklı dağların isimleri nelerdir?

Ege Bölgesi'nde yer alan dağlar genel itibarıyla kırıklı yapıya sahiptir.



Kaz Dağları

Madra Dağı

Yunt Dağı

Bozdağlar

Aydın Dağları

Menteşe Dağları,
Nur Dağları

9. İç Anadolu'daki volkanik dağları yazınız.

Karadağ

Karacadağ

Hasan Dağı

Melendiz Dağı

Erciyes

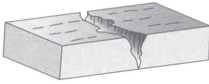


2. Akarsuların aşındırmasıyla oluşan yer şekillerinin en önemlisi vadilerdir. Akarsu vadilerinin oluşum türlerini kısaca açıklayınız.


Boğaz Vadiler: Akarsuların dağları enine yarması sonucunda oluşturduğu "U" profiline sahip vadilerdir.

Çentik Vadi: Engebenin fazla olduğu yüksek bölgelerde oluşan "V" profilindeki vadilerdir. Ülkemizde en yaygın olan vadi tipidir.

Kanyon Vadi: Kalkerli arazilerin yaygın olduğu bölgelerde oluşmuş yamaçları basamaklı vadilerdir. Akdenizde yaygındır.



Çentik Vadi



Kanyon Vadi



Boğaz Vadi

3. Akarsu eğiminin azaldığı alanlarda görülen menderes şekli en fazla hangi nehirlerin yataklarında görülür?

Büyük Menderes

Küçük Menderes

Gediz

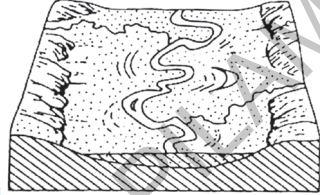
Bakırçay



İNFORMAL YAYINLARI

4. Menderesler çizerek akan akarsuların özellikleri nelerdir?

- ✓ Akış hızı azdır.
- ✓ Boyu uzamıştır.
- ✓ Hidroelektrik potansiyeli azdır.
- ✓ Yana aşındırma fazladır.
- ✓ Rafting turizmüne elverişli değildir.



5. Volkanik arazilerin sel ve selinti sularının aşındırması sonucu oluşan peribacaları ülkemizde nerelerde görülür.

İç Anadolu'da yer alan Hasan ve Erciyes Dağı'nın tüfleri Nevşehir ilimizin Ürgüp ve Göreme ilçelerinde peribacaları oluşturmuştur.

Not: Peribacalarının oluşumunda rüzgarların etkisi dolaylıdır ama temel etken sel sularıdır. Aşağıda peribacası fotoğrafı verilmiştir.





İNFORMAL YAYINLARI

19. 1960-1965 yıllarında nüfus artış hızımızda yavaşlama olmuştur. Bu durumun nedeni nedir?

200 binden fazla vatandaşımızın çalışmak için yurt dışına gitmesidir.

20. 1975 yılından itibaren nüfus artış hızımızın düşmesinde etkili olan faktörler nelerdir?

- ✓ Kentleşme
- ✓ Sanayileşme
- ✓ Doğum oranlarındaki azalma

21. Ülkemiz genel itibariyle 1960'lı yıllara kadar nasıl bir nüfus politikası izlemiştir ve bu politikaların nedenleri nelerdir?

Daha önceki dönemlerde uzun süren savaş yıllarında erkek nüfusun önemli oranda azalmasından dolayı nüfusu artırma politikası izlemiştir.

22. Nüfus artışının olumsuz sonuçları nelerdir?

- ✓ Kişi başına düşen milli gelir azalır.
- ✓ Çevre kirliliği oluşur.
- ✓ Kentlerde konut sıkıntısı görülür.
- ✓ İç ve dış göçler gerçekleşir.
- ✓ Trafik, çarpık kentleşme gibi sorunlar oluşur.
- ✓ Bağımlı nüfus artar.



İNFORMAL YAYINLARI

23. Nüfus artışının olumlu sonuçları nelerdir?

- ✓ Devletin vergi gelirleri artar.
- ✓ İş gücü ucuzlar.
- ✓ Üretim artar.
- ✓ Yeni iş kolları oluşur.

24. Ülkemizde 1923-1960 yılları arasında uygulanan nüfus artırıcı politikaların dayanak noktaları nelerdir?

- ✓ Nüfusun askeri ve siyasi güç olarak görülmesi
- ✓ Salgın hastalıkların fazlalığı
- ✓ Tarımda makineleşmenin sınırlılığı
- ✓ Ölüm oranlarının yüksek olması
- ✓ Savaş sonrası ülkede erkek nüfusun azlığı
- ✓ Doğal kaynakların işletilmesinde nüfusa ihtiyaç duyulması
- ✓ Yeni kurulan devletimizin özgürlüğünün devamı için nüfusun gerekli olması

25. 1960'lı yıllara kadar uygulanan nüfus artırıcı politikalara örnekler verir misiniz?

- ✓ Fazla çocuklu ailelerin yol vergisinden muaf tutulması
- ✓ Altı ve daha fazla çocuğu olan ailelere parasal yardım veya madalya verilmesi
- ✓ Göçe teşvik için gümrük vergisi muafiyetlerinin getirilmesi
- ✓ Nüfus komisyonlarının kurulması
- ✓ Evlenme yaşının düşürülmesi



İNFORMAL YAYINLARI

44. Ülkemizde göçü önlemek için yapılabilecek çalışmalar nelerdir?

- ✓ Kırsal kesimlerde besi ve ahır hayvancılığının geliştirilmesi
- ✓ Modern tarım yöntemlerinin kullanılması
- ✓ Kırsal kesimlerde yol, elektrik, eğitim, sağlık gibi hizmet koşullarını iyileştirilmesi
- ✓ Tarıma dayalı sanayi kollarını kırsal alanlara yayılması

45. Ülkemizdeki genel göç hareketliliği hangi yönlere doğru olmaktadır?

- ✓ Doğudan batıya
- ✓ İç kesimlerden kıyı kesimlere
- ✓ Geri kalmış şehirlerden gelişmiş şehirlere
- ✓ Kentten kente (Eskiden köyden kenteydi.)

46. Ülkemize yurt dışından yapılan önemli göçler hangileridir?

- ✓ Lozan Antlaşması'na göre Yunanistan'dan gelen Türkler (Mübadele)
- ✓ Bulgaristan'dan gelen Türkler
- ✓ Doğu Blokunun çökmesiyle Rusya ve Orta Asya'dan gelen Türkler

47. Ülkemizde mübadele göçü ile kastedilen nedir?

1923'te Yunanistan ile yapılan anlaşma gereği Türkiye'de yaşayan Rumların Yunanistan'a, Yunanistan'da yaşayan Türklerin Türkiye'ye göç etmesidir.

48. Ülkemizde görülen mevsimlik göçlere örnekler verir misiniz?

- ✓ Her yıl sürülerini otlatmak için yaylaya çıkan göçebeler
- ✓ Rize ilimize çay hasadı için giden işçiler
- ✓ Ordu ve Giresun'a fındık toplamak için giden işçiler
- ✓ Turizm sektöründe çalışmak için Muğla ve Antalya ilimize giden işçiler



İNFORMAL YAYINLARI

71. Bir köyden ayrılmış olan ama idari açıdan köye bağlı olan yerlere mahalle denir. Bu tür yerleşmeler ülkemizde hangi bölgelerde yaygındır?

- ✓ Batı Karadeniz
- ✓ Batı Anadolu
- ✓ Akdeniz
- ✓ Marmara

72. Ülkemizde görülen geçici köy altı yerleşmeleri nelerdir?

Bağ evi	Taş ocakları	Dam	Kom
Yayla	Oba	Ağıl	Dalyan

73. Çoğunlukla hayvancılık yapılan kom yerleşmelerinin en fazla görüldüğü bölgeler hangileridir?

- ✓ Doğu Anadolu
- ✓ Güneydoğu Anadolu





İNFORMAL YAYINLARI

79. Ülkemizdeki kır yerleşmelerinin genel özellikleri hakkında bilgi verir misiniz?

- ✓ Nüfusu azdır.
- ✓ Ekonomisi genelde tarıma dayalıdır.
- ✓ Meskenler genelde tek katlıdır.
- ✓ Altyapı yetersizliği görülür.
- ✓ Eğitim, sağlık vb. hizmetler gelişmemiştir.

80. Kırsal kesimlerde mesken yapımında kullanılan malzemeler ile coğrafi çevre arasındaki ilişkilere örnekler verir misiniz?

Ormanların bol olduğu yerlerde ağşap meskenler vardır.

Killi toprağın yaygın olduğu düz arazilerde kerpiç evler görülür.

Taşın kolay temin edilebildiği arazilerde ise taş meskenler görülür.

81. Divan yerleşmelerinin görüldüğü şehirler hangileridir?

Sakarya

Sinop

Kocaeli

82. Ülkemizde şehirler ekonomik fonksiyonlarına göre hangi gruplara ayrılabilir?

İdari	Askeri	Sanayi	Ticaret
Ulaşım	Tarım	Madencilik	Kültür
Karma	Liman	Turizm	Enerji



İNFORMAL YAYINLARI

101. Verimli topraklardan dolayı nüfus yoğunluğu artan şehirlere örnekler verir misiniz?

Adana

Denizli

Bursa

İzmir

102. Nevşehir ilimizin etrafına göre nüfus yoğunluğunun fazla olması hangi jeolojik özelliği ile ilgilidir?

Bu il genç oluşumlu volkanik araziler barındırır. Verimliliği yüksek olan bu arazilerde patates ve üzüm gibi ürünlerin hasadı yapılır. Bu da nüfus yoğunluğunu artırır. Ayrıca peribacaları gibi çok önemli doğa güzelliğinin bulunması da turizm fonksiyonunu ön plana çıkartmış ve nüfus üzerinde etkili olmuştur.

103. Karstik arazilerden dolayı nüfusu az olan yerlere örnekler verir misiniz?

- ✓ Taşeli Platosu
- ✓ Teke Yöresi

104. Kastamonu, Bolu, Muğla gibi illerimizde nüfus yoğunluğunu etkileyen coğrafi faktör hangisidir?

Orman örtüsünün sık olması

105. Yer altı zenginliklerine bağlı olarak nüfusu artan şehirlere örnekler verir misiniz?

Zonguldak

Batman

Karadeniz Ereğlisi

Karabük

Sivas

Elbistan

Tavşanlı

Murgul



İNFORMAL YAYINLARI

9. Ülkemizde üretilen petrol ve doğal gazın ihtiyacımızı karşılama oranları nasıldır?

Petrol (%5-10)

Doğal gaz (%1-2)

Not: Ülkemizde çıkarılan petrol ve doğal gaz ülke ihtiyacımızı karşılamaktan uzak olduğu için bu yakıtları önemli miktarda ithal etmekteyiz.

10. Ülkemizin önemli oranda petrol aldığı enerji hatları hangileridir?

Kerkük – Yumurtalık (Irak)

Bakü – Tiflis – Ceyhan (Azerbaycan)

11. Ülkemizin çıkardığı doğal gaz kendi ihtiyacının çok az bir kısmını karşılamaktadır. Bu yüzden hangi ülkelerden doğal gaz ihracatı yapmaktayız?

Rusya

İran

Cezayir

12. Ülkemizdeki akarsuların hidroelektrik potansiyeli yüksektir. Bu durumun nedeni nedir?

Ülkemizin dağlık ve engebeli arazi yapısına sahip olmasıdır. Bu durum akarsuların hızını ve dolayısıyla enerji üretimini artırır.

13. Ülkemizde rüzgâr gücüyle elektrik üreten santaller hangi merkezlerde yer alır?

İzmir (Çeşme)	İstanbul	Aydın	Osmaniye
Balıkesir	Hatay	Manisa	Çanakkale
Sivas	Afyon	Amasya	Tokat



İNFORMAL YAYINLARI

BÖLÜM 17

TÜRKİYE'DE TİCARET

KPSS ANALİZ

• Ticaret

Bu konu ile ilgili KPSS'de sorulacak sorular daha çok güncel istatistiki bilgilerdir. Mesela son yıllarda ülkemizin en çok ihracat yaptığı ülkeler veya ithalatımızda önde olan ülkeler sorulabilir.

YKS ANALİZ

• Ticaret

Bu konu ile ilgili sorulacak sorular daha çok güncel istatistiki bilgilerdir. Mesela son yıllarda ülkemizin en çok ihracat yaptığı ülkeler veya ithalatımızda önde olan ülkeler sorulabilir. Bu konu ile ilgili soruları kaçırmamak adına TÜİK'in güncel ticaret verileri takip edilmelidir.

1. Günümüzde ticaretin canlanmasında, üretimin artmasında etkili olan temel faktör nedir?

Sanayileşme sürecidir. Sanayileşme ile birlikte tüketeyeğinden daha fazla üreten ülkeler ticarete yönelmiştir.

2. Ticareti etkileyen unsurlar nelerdir?

- ✓ Nüfus ve yerleşme
- ✓ Yollar ve ulaştırma
- ✓ Ekonomi ve üretim

3. Ülkemizde iç ticaretin 1950'lerden sonra gelişmeye başlamasının nedeni nedir?

Üretim ve tüketim merkezleri arası ulaşımın gelişmesidir.